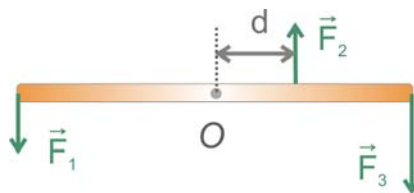
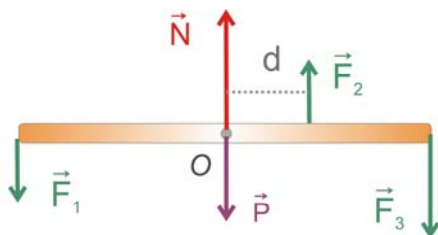


2.- Un listón homogéneo de longitud  $L = 2 \text{ m}$  y masa  $m = 1 \text{ kg}$  está clavado en la pared por su punto medio (O), de forma que puede girar libremente en torno a ese punto. Sobre él se aplican las fuerzas  $\vec{F}_1 = \vec{F}_2 = 4 \text{ N}$  y  $\vec{F}_3 = 6 \text{ N}$ , según la figura.

Dato:  $I_{CM} = (1/12) m L^2$



a) Determinar el valor de  $d$  para que el listón esté en equilibrio estático, así como el valor de la normal en el punto O.



Fuerzas externas:

peso  $\vec{P}$ , normal  $\vec{N}$  y fuerzas  $\vec{F}_1$ ,  $\vec{F}_2$  y  $\vec{F}_3$

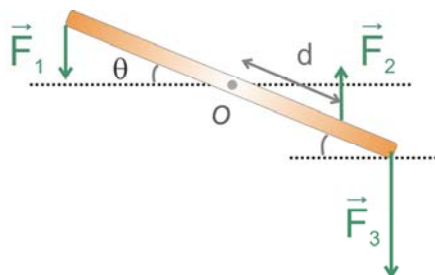
Condición de equilibrio  $\left\{ \begin{array}{l} \sum \vec{F}_{ext} = 0 \quad (1) \\ \sum \vec{\tau}_{ext} = 0 \quad (2) \end{array} \right.$  

(1)  $\vec{P} + \vec{N} + \vec{F}_1 + \vec{F}_2 + \vec{F}_3 = 0$  Eje y:  $N + F_2 - P - F_1 - F_3 = 0$   
 $N = P + F_1 + F_3 - F_2 = 16 \text{ (N)}$

(2) Eje z:  $F_1 \frac{L}{2} + F_2 d = F_3 \frac{L}{2}$   $d = 0.5 \text{ (m)}$

$\vec{P}$  y  $\vec{N}$  no hacen momento con respecto a O

b) Si se duplica el módulo de  $\vec{F}_3$  y  $d = 0.75 \text{ m}$ , determinar la aceleración angular  $\alpha$  del listón en función del ángulo  $\theta$  que barre, suponiendo que las fuerzas son siempre verticales.



$\vec{F}_3 = 12 \text{ N}$   $d = 0.75 \text{ m}$

Ecuación de rotación:

$$\sum \vec{\tau}_{ext} = I \vec{\alpha}$$

$$F_1 \frac{L}{2} \text{sen}(90 - \theta) + F_2 d \text{sen}(90 - \theta) - F_3 \frac{L}{2} \text{sen}(90 + \theta) = \frac{1}{12} m L^2 \alpha$$

$$F_1 \frac{L}{2} \cos \theta + F_2 d \cos \theta - F_3 \frac{L}{2} \cos \theta = \frac{1}{12} m L^2 \alpha \quad \text{Sustituyendo:}$$

$$-5 \cos \theta = \frac{1}{3} \alpha \Rightarrow \alpha = -15 \cos \theta \text{ rad} / \text{s}^2$$